

KLAUSUR

Fourier- und Laplacetheorie

15.2.2000

W. Strampp

Name:	Vorname:	Matr.-Nr.:
-------	----------	------------

Bitte lassen Sie genügend Platz zwischen den Aufgaben
und beschreiben Sie nur die Vorderseite der Blätter!

Zum Bestehen der Klausur sollten 11 Punkte erreicht werden.

1)	2)	3)	4)
----	----	----	----

Punkte:	Note:
---------	-------

1. Gegeben sei die Funktion:

$$f(t) = \begin{cases} \sin(t) & , \quad 0 \leq t \leq \pi \\ 0 & , \quad \pi \leq t \leq 2\pi . \end{cases}$$

Man setze f direkt 2π -periodisch fort und berechne die Fourier-Koeffizienten a_j und b_j . Hinweis: Man benutze die Fourierreihe

$$|\sin(t)| = \left(\frac{2}{\pi} + \sum_{j=1}^{\infty} \frac{4}{(1-4j^2)\pi} \cos(2jt) \right) .$$

(4P)

2. Man berechne die Faltung $(f * g)(t)$ auf \mathbb{R} der Funktionen:

$$f(t) = \begin{cases} 1, & 0 \leq t \leq 1, \\ 0 & \text{sonst,} \end{cases} \quad , \quad g(t) = \begin{cases} t, & 0 \leq t \leq 1, \\ 0 & \text{sonst,} \end{cases}$$

und gebe anschließend die Fouriertransformierte der Faltung an. Hinweis: Man gehe aus von der Fouriertransformierten

$$\mathcal{F}(h(t))(\omega) = \frac{1}{2\pi} \operatorname{sinc} \left(\frac{\omega}{2} \right) ,$$

des Rechteckimpulses

$$h(t) = \begin{cases} 1, & |t| \leq \frac{1}{2}, \\ 0 & \text{sonst,} \end{cases}$$

und benutze den Satz über die Differenziation im Zeitbereich.

(8P)

3. Unter Verwendung von: $\int_0^{\infty} e^{-t^2} dt = \frac{\sqrt{\pi}}{2}$ berechne man die Laplacetransformierte von

$$f(t) = \sqrt{t} .$$

(6P)

4. Man löse folgendes Anfangswertproblem mit Hilfe der Laplacetransformation:

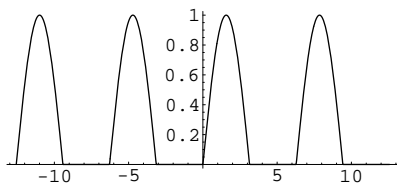
$$y'' - 2y' + 2y = 5t, \quad y(0) = 0, y'(0) = 2 .$$

(6P)

Lösungen

1.) Die Funktion f kann wie folgt beschrieben werden:

$$f(t) = \frac{\sin(t) + |\sin(t)|}{2}.$$



Die Funktion

$$f(t) = \sin(t), 0 \leq t \leq \pi,$$

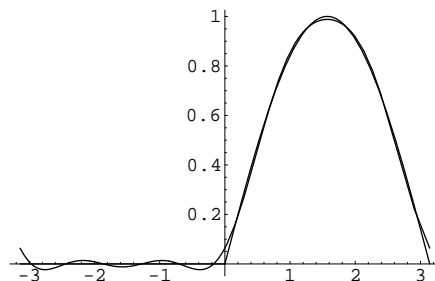
$$f(t) = 0, \pi \leq t \leq 2\pi,$$

und ihre direkte periodische

Fortsetzung

Die Fourier-Koeffizienten von $f(t)$ können nun als Summe der Koeffizienten von $\frac{1}{2}\sin(t)$ und $\frac{1}{2}|\sin(t)|$ berechnet werden:

$$\begin{aligned} f(t) &\sim \frac{1}{2}\sin(t) + \frac{1}{2}\left(\frac{2}{\pi} + \sum_{j=1}^{\infty} \frac{4}{(1-4j^2)\pi} \cos(2jt)\right) \\ &\sim \frac{1}{\pi} + \frac{1}{2}\sin(t) + \frac{2}{\pi} \sum_{j=1}^{\infty} \frac{1}{(1-4j^2)} \cos(2jt). \end{aligned}$$



Die Funktion

$$f(t) = \sin(t), 0 \leq t \leq \pi,$$

$$f(t) = 0, \pi \leq t \leq 2\pi,$$

und die Teilsumme ihrer Fourierreihe

$S_f(n, 5)$ gezeichnet im Intervall

$[-\pi, \pi]$

2.) Bei der Berechnung der Faltung unterscheiden wir vier Intervalle: $t \leq 0$, $0 < t \leq 1$, $1 < t \leq 2$ und $t > 2$. Im ersten und im vierten Intervall liegt sowohl der Schnittpunkt der Funktionen $\tilde{f}(\tau) = 1$ und $\tilde{g}(\tau) = t - \tau$ als auch der Schnittpunkt von $\tilde{g}(\tau) = t - \tau$ mit der τ -Achse außerhalb des Intervalls $0 < \tau < 1$. Die Intervalle, in denen $f(\tau)$ und $g(t - \tau)$ beide nicht verschwinden sind disjunkt. Das Faltungsintegral ergibt Null. Im zweiten Intervall liegt der Schnittpunkt der Funktionen $\tilde{f}(\tau) = 1$ und $\tilde{g}(\tau) = t - \tau$ außerhalb des Intervalls $0 < \tau < 1$, aber

der Schnittpunkt von $\tilde{g}(\tau) = t - \tau$ mit der τ -Achse liegt bei $\tau = t$ innerhalb des Intervalls $0 < \tau < 1$. Das Faltungsintegral ergibt:

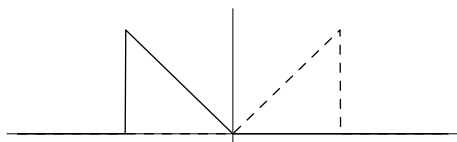
$$\begin{aligned} \int_{-\infty}^{\infty} f(\tau) g(t - \tau) d\tau &= \int_0^t (t - \tau) d\tau \\ &= \left(t\tau - \frac{\tau^2}{2} \right) \Big|_{\tau=0}^{\tau=t} \\ &= \frac{t^2}{2}. \end{aligned}$$

Im dritten Intervall liegt der Schnittpunkt der Funktionen $\tilde{f}(\tau) = 1$ und $\tilde{g}(\tau) = t - \tau$ bei $\tau = t - 1$ innerhalb des Intervalls $0 < \tau < 1$, aber der Schnittpunkt von $\tilde{f}(\tau) = 1$ und $\tilde{g}(\tau) = t - \tau$ liegt außerhalb des Intervalls $0 < \tau < 1$. Das Faltungsintegral ergibt:


$$\begin{aligned} \int_{-\infty}^{\infty} f(\tau) g(t - \tau) d\tau &= \int_{t-1}^1 (t - \tau) d\tau \\ &= \left(t\tau - \frac{\tau^2}{2} \right) \Big|_{\tau=t-1}^{\tau=1} \\ &= t - \frac{t^2}{2}. \end{aligned}$$

Insgesamt ergibt sich:

$$(f * g)(t) = \begin{cases} 0, & -\infty < t \leq 0, \\ \frac{1}{2\pi} \frac{t^2}{2}, & 0 < t \leq 1, \\ \frac{1}{2\pi} \left(t - \frac{t^2}{2} \right), & 1 < t \leq 2, \\ 0, & 2 < t < \infty, \end{cases}$$

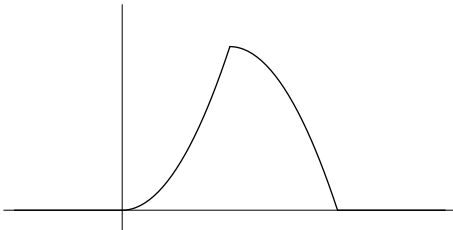


Die Funktionen $g(\tau)$ (gestrichelt) und $g(-\tau)$ über der τ -Achse gezeichnet.





Die Funktionen $f(\tau)$, $g(t - \tau)$ für verschiedene t über der τ -Achse gezeichnet.



Die Faltung der Funktionen f und g

Mit Hilfe der Verschiebung im Zeitbereich bekommt man die Fouriertransformierte von f . Ist h ein Rechteckimpuls

$$h(t) = \begin{cases} 1, & |t| \leq \frac{1}{2}, \\ 0 & \text{sonst,} \end{cases}$$

mit der Fouriertransformierten

$$\mathcal{F}(h(t))(\omega) = \frac{1}{2\pi} \operatorname{sinc}\left(\frac{\omega}{2}\right),$$

so besitzt $f(t) = h\left(t - \frac{1}{2}\right)$ die Fouriertransformierte

$$\mathcal{F}(f(t))(\omega) = \frac{1}{2\pi} e^{-\frac{\omega}{2}i} \operatorname{sinc}\left(\frac{\omega}{2}\right).$$

Wir können die Hilfsfunktion h wieder mit der Heavisideschen Sprungfunktion schreiben als:

$$h(t) = u\left(t + \frac{1}{2}\right) + u\left(t - \frac{1}{2}\right).$$

Nach dem Differenziationssatz im Zeitbereich besteht zwischen den Fouriertransformierten von f und g folgende Beziehung:

$$\mathcal{F}(f(t)) = \omega i \mathcal{F}(g(t)) + \frac{1}{2\pi} e^{-\omega i}.$$

Hieraus ergibt sich:

$$\begin{aligned}\mathcal{F}(g(t)) &= \frac{1}{\omega i} \left(\mathcal{F}(f(t)) - \frac{1}{2\pi} e^{-\omega i} \right) \\ &= \frac{e^{-\frac{\omega}{2} i}}{2\pi \omega i} \left(\operatorname{sinc} \left(\frac{\omega}{2} \right) - e^{-\frac{\omega}{2} i} \right).\end{aligned}$$

Die Fouriertransformierte der Faltung lautet dann:

$$\mathcal{F}((f * g)(t))(\omega) = -\frac{i}{4\pi^2} \operatorname{sinc} \left(\frac{\omega}{2} \right) \frac{e^{-\omega i}}{\omega} \left(\operatorname{sinc} \left(\frac{\omega}{2} \right) - e^{-\frac{\omega}{2} i} \right).$$

3.) Die Funktion $f(t)$ ist von exponentieller Ordnung. Für reelles $s > 0$ bekommen wir zunächst:

$$\begin{aligned}L(s) &= \int_0^{\infty} e^{-st} \sqrt{t} dt \\ &= \frac{1}{s\sqrt{s}} \int_0^{\infty} e^{-\tau} \sqrt{\tau} d\tau \\ &= \frac{1}{s\sqrt{s}} \int_0^{\infty} 2\sigma e^{-\sigma^2} \sigma d\sigma \\ &= \frac{1}{s\sqrt{s}} e^{-\sigma^2} \Big|_0^{\infty} + \frac{1}{s\sqrt{s}} \int_0^{\infty} e^{-\sigma^2} d\sigma \\ &= \frac{\sqrt{\pi}}{2s\sqrt{s}}.\end{aligned}$$

Damit konvergiert das Laplace-Integral auch für alle $s \in \mathbb{C}$ mit $\Re(s) > 0$ und dieselbe Rechnung liefert die Behauptung. Für $s = 0$ gilt:

$$\int_0^{t_0} \sqrt{t} dt = \frac{2}{3} t_0 \sqrt{t_0}.$$

Offenbar konvergiert das Laplace-Integral für $s = 0$ nicht. Damit stellt $\Re(s) > 0$ die Konvergenzhalbebene dar.

4.) Wir setzen $\mathcal{L}(y(t))(s) = Y(s)$ und bekommen für die Ableitungen:

$$\mathcal{L}(y'(t))(s) = s Y(s),$$

$$\mathcal{L}(y''(t))(s) = s^2 Y(s) - 2.$$

Mit der Korrespondenz

$$\mathcal{L}(e^t)(s) = \frac{1}{s-1}, \quad \Re(s) > 1.$$

können wir die Differenzialgleichung in den Bildraum übertragen:

$$s^2 Y(s) - 2 - 2s Y(s) + 2 Y(s) = \frac{5}{s^2}$$

bzw.

$$(s^2 - 2s + 2) Y(s) = \frac{5}{s^2} + 2.$$

Das charakteristische Polynom

$$P(s) = s^2 - 2s + 2$$

besitzt die Nullstellen: $1 - i$ und $1 + i$, sodass für die Laplacetransformierte der gesuchten Lösung gelten muss:

$$Y(s) = \frac{\frac{5}{s^2} + 2}{s^2 - 2s + 2} = \frac{2s^2 + 5}{s^2(s^2 - 2s + 2)}, \quad \Re(s) > 1.$$

Partialbruchzerlegung ergibt:

$$\frac{2s^2 + 5}{s^2(s^2 - 2s + 2)} = \frac{\frac{5}{2}}{s} + \frac{\frac{5}{2}}{s^2} + \frac{-\frac{5}{4} + i}{s - (1 - i)} + \frac{-\frac{5}{4} - i}{s - (1 + i)}.$$

Hieraus erhält man sofort die Rücktransformierte:

$$\begin{aligned} y(t) &= \mathcal{L}^{-1}(Y(s))(t) \\ &= \frac{5}{2} + \frac{5}{2}t + \left(-\frac{5}{4} + i\right) e^{(1-i)t} + \left(-\frac{5}{4} - i\right) e^{(1+i)t} \\ &= \frac{5}{2} + \frac{5}{2}t - \frac{5}{2}e^t \cos(t) + 2e^t \sin(t). \end{aligned}$$

Während man sich hier auf die Korrespondenz

$$\mathcal{L}(t^n e^{at})(s) = \frac{n!}{(s-a)^{n+1}}$$

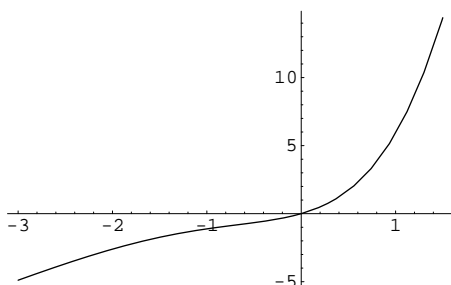
stützt, kann man auch durch andere Zerlegungen zum Ziel kommen:

$$\begin{aligned} Y(s) &= \frac{2}{s^2 - 2s + 2} + \frac{5}{s^2 (s^2 - 2s + 2)} \\ &= \frac{2}{(s-1)^2 + 1} + 5 \left(\frac{\frac{1}{2}}{s} + \frac{\frac{1}{2}}{s^2} + \frac{-\frac{1}{2}s + \frac{1}{2}}{(s-1)^2 + 1} \right) \\ &= \frac{5}{2} \frac{1}{s} + \frac{5}{2} \frac{1}{s^2} - \frac{5}{2} \frac{s-1}{(s-1)^2 + 1} + 2 \frac{1}{(s-1)^2 + 1}. \end{aligned}$$

Mit den Korrespondenzen

$$\mathcal{L}(\cos(t))(s) = \frac{s}{s^2 + 1}, \quad \mathcal{L}(\sin(t))(s) = \frac{1}{s^2 + 1},$$

und dem Verschiebungssatz im Bildbereich erhalten wir wieder die obige Rücktransformierte.



Die Lösung des Anfangswertproblems

$$\begin{aligned} y'' - 2y' + 2y &= 5t \\ y(0) &= 0, y'(0) = 2 \end{aligned}$$