

# KLAUSUR

Mathematik IV

17. 2. 2004

Wolfram Koepf

Name:	Vorname:	Matr.-Nr.:
-------	----------	------------

Bitte lassen Sie genügend Platz zwischen den Aufgaben  
und beschreiben Sie nur die Vorderseite der Blätter!

Zum Bestehen der Klausur sollten 14 Punkte erreicht werden.

1)	2)	3)	4)
----	----	----	----

Punkte:	Note:
---------	-------

1. **(7P)** Gegeben sei folgende Tabelle von Stützwerten und Stützstellen:

$k$	1	2	3
$x_k$	0	$\frac{\pi}{4}$	$\frac{\pi}{2}$
$y_k$	0	$\sin\left(\frac{\pi}{4}\right)$	$\sin\left(\frac{\pi}{2}\right)$

Man bestimme das Interpolationspolynom  $L(x)$  zweiten Grades in der Form von Lagrange und gebe eine Abschätzung des Interpolationsfehlers im Intervall  $\left[0, \frac{\pi}{2}\right]$ .

2. **(5P)** Die Gleichung  $x = \cos x$  hat im Intervall  $[0, 1]$  genau eine Lösung. Skizzieren Sie dies. Lösen Sie die Gleichung numerisch auf 6 Dezimalstellen durch Anwendung des Newtonverfahrens.
3. **(5P)** Gegeben sei die Wertetabelle

$j$	1	2	3	4	5	6	7
$x_j$	1	2	4	6	8	8	9
$y_j$	3	4	6	8	10	11	13

Man bestimme die Regressionsgerade nach der Gaußschen Fehlerquadratmethode.

4. **(6P)** Durch  $Q_3(f) = A_0 f(0) + A_1 f(1) + A_2 f(2) + A_3 f(3)$  werde eine Quadraturformel für das Integral  $\int_0^3 f(x) dx$  dargestellt. Man bestimme die Gewichte  $A_0, A_1, A_2, A_3$  so, dass Polynome vom Grad  $\leq 3$  exakt integriert werden. Man wende die Quadraturformel auf das Integral  $\int_0^3 \sin x dx$  an und vergleiche das Ergebnis mit dem exakten Wert des Integrals.
5. Gegeben sei das Anfangswertproblem

$$y' = \frac{x}{y}, \quad y(0) = 1.$$

- (a) **(5P)** Wenden Sie das Euler-Cauchy-Verfahren mit  $h = 0,2$  im Intervall  $[0, 2]$  an.
- (b) **(2P)** Stellen Sie die erhaltene Approximationslösung graphisch dar.

## Lösungen

1.) Mit  $\sin\left(\frac{\pi}{4}\right) = \frac{\sqrt{2}}{2}$  und  $\sin\left(\frac{\pi}{2}\right) = 1$  ergibt sich:

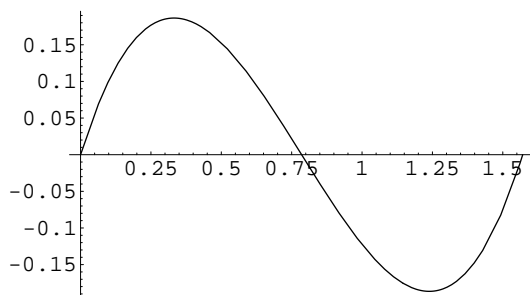
$$\begin{aligned} L(x) &= \frac{8x\left(x - \frac{\pi}{4}\right)}{\pi^2} - \frac{8\sqrt{2}x\left(x - \frac{\pi}{2}\right)}{\pi^2} \\ &= \left(\frac{4\sqrt{2}}{\pi} - \frac{2}{\pi}\right)x + \left(\frac{8}{\pi^2} - \frac{8\sqrt{2}}{\pi^2}\right)x^2. \end{aligned}$$

Mit  $f(x) = \sin(x)$ ,  $n = 2$  und  $f'''(x) = -\cos(x)$  bekommen wir zunächst die Abschätzung:

$$|\sin(x) - L(x)| \leq \frac{1}{6} \max_{0 \leq x \leq \frac{\pi}{2}} |\cos(x)| \max_{0 \leq x \leq \frac{\pi}{2}} \left| \prod_{k=1}^3 (x - x_k) \right|.$$

Ferner rechnet man leicht nach, dass die Funktion

$$\omega(x) := \prod_{k=1}^3 (x - x_k) = x \left(x - \frac{\pi}{4}\right) \left(x - \frac{\pi}{2}\right)$$



Das Hilfspolynom  
 $\omega(x) = x \left(x - \frac{\pi}{4}\right) \left(x - \frac{\pi}{2}\right)$

an den Stellen

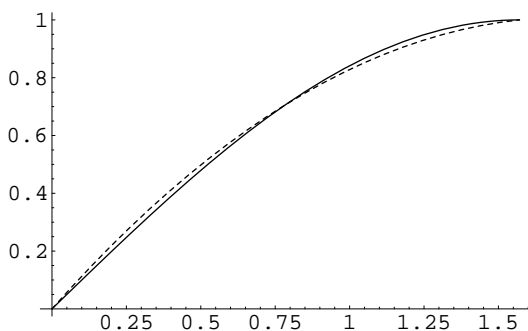
$$\frac{3\pi - \sqrt{3}\pi}{12} \quad \text{bzw.} \quad \frac{3\pi + \sqrt{3}\pi}{12}$$

ein Maximum bzw. ein Minimum annimmt. Die Auswertung an den Extremalstellen ergibt:

$$\left| \prod_{k=1}^3 (x - x_k) \right| \leq \frac{\pi^3}{96\sqrt{3}}.$$

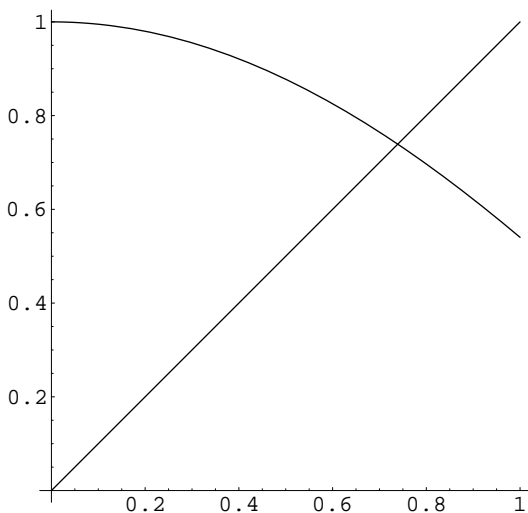
Insgesamt ergibt sich damit folgende Abschätzung für  $0 \leq x \leq \frac{\pi}{2}$ :

$$|\sin(x) - L(x)| \leq \frac{\pi^3}{576\sqrt{3}} \approx 0.031079.$$



Die Sinusfunktion und  
(gestrichelt) ihre  
Interpolationsfunktion  
 $L(x)$

2.) Es geht um die Lösung der Gleichung  $x = \cos x$  mit der graphischen Darstellung



Graphische Darstellung  
der Gleichung  $x = \cos x$

Für  $f(x) = x - \cos x$  ergibt sich

$$g(x) := x - \frac{f(x)}{f'(x)} = x - \frac{x - \cos x}{1 + \sin x}.$$

Beim Newtonverfahren wird also die Funktion  $g(x)$  iteriert. Beginnen wir mit dem Startwert  $x_0 = 0$ , so erhalten wir aus

$$x_{n+1} = g(x_n)$$

die Folge  $(x_n)$  mit

$n$	$x_n$
0	0
1	1
2	0.7503638678402439
3	0.7391128909113617
4	0.7390851333852840
5	0.7390851332151607

und somit bereits bei der 4. Iteration auf 6 (und mehr) Stellen genau

$$x = 0.739085 .$$

3.) Gegeben sind  $N = 7$  Datenpaare. Die Daten liefern die Mittelwerte

$$\bar{x} = \frac{1}{N} \sum_{k=1}^N x_k = \frac{38}{7}$$

und

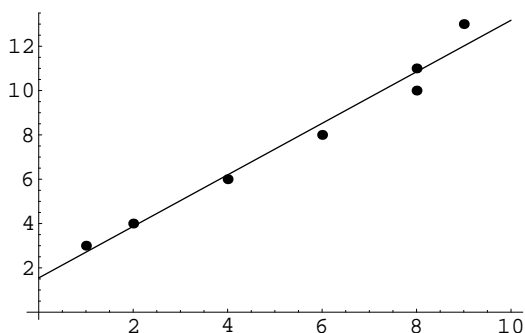
$$\bar{y} = \frac{1}{N} \sum_{k=1}^N y_k = \frac{55}{7} .$$

Die Steigung  $m$  der Regressionsgeraden  $y = m x + n$  ist also gleich

$$m = \frac{\frac{1}{N} \sum_{k=1}^N x_k y_k - \bar{x} \cdot \bar{y}}{\frac{1}{N} \sum_{k=1}^N x_k^2 - \bar{x}^2} = \frac{243}{209} = 1.16268 ,$$

und der Achsenabschnitt  $n$  ergibt sich zu

$$n = \bar{y} - m \cdot \bar{x} = \frac{17}{11} \approx 1.54545 .$$



Die Regressionsgerade  
 $f(x) = 1.16268 x + 1.54545$

4.) Wir machen den Ansatz

$$\int_0^3 f(x) dx \approx A_0 f(0) + A_1 f(1) + A_2 f(2) + A_3 f(3),$$

setzen nacheinander die Monome  $f(x) = 1, x, x^2, x^3$  ein, für welche jeweils Gleichheit gelten soll, und erhalten das Gleichungssystem

$$\begin{aligned} A_0 + A_1 + A_2 + A_3 &= 3 \\ A_1 + 2A_2 + 3A_3 &= \frac{9}{2} \\ A_1 + 4A_2 + 9A_3 &= 9 \\ A_1 + 8A_2 + 27A_3 &= \frac{81}{4}. \end{aligned}$$

Dieses hat die Lösung  $A_0 = \frac{3}{8}, A_1 = \frac{9}{8}, A_2 = \frac{9}{8}$  sowie  $A_3 = \frac{3}{8}$ .

Für  $f(x) = \sin x$  erhalten wir

$$\int_0^3 \sin x dx = 1 - \cos 3 \approx 1.98999,$$

während die Näherung liefert

$$A_0 f(0) + A_1 f(1) + A_2 f(2) + A_3 f(3) = \frac{9 \sin(1)}{8} + \frac{9 \sin(2)}{8} + \frac{3 \sin(3)}{8} \approx 2.02253.$$

5.) Das Euler-Cauchy-Verfahren liefert mit  $h = 0.2$  und  $n = 10$  die Iteration

$$\begin{aligned} x_j &= j h = 0.2 j \\ y(x_j) = y_j &= y_{j-1} + h g(x_{j-1}, y_{j-1}) = y_{j-1} + 0.2 \frac{x_{j-1}}{y_{j-1}} \end{aligned}$$

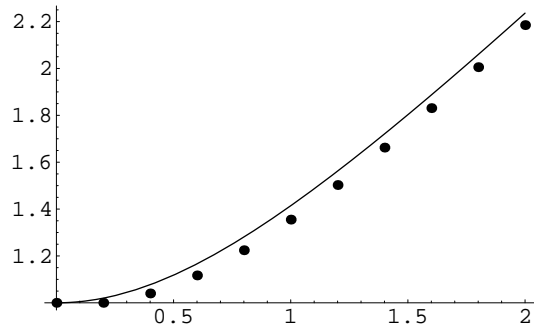
( $j = 1, \dots, n$ ) mit dem Anfangswert

$$y_0 = y(0) = 1.$$

Eine Rechnung liefert die Datentabelle

$j$	1	2	3	4	5	6	7	8	9	10
$x_j$	0.2	0.4	0.6	0.8	1.0	1.2	1.4	1.6	1.8	2.0
$y_j$	1	1.04	1.117	1.224	1.355	1.503	1.662	1.831	2.006	2.185

Dies ergibt die folgende graphische Darstellung der Lösungsapproximation.



Eine Zeichnung der Lösung des  
Euler-Cauchy-Verfahrens