

KLAUSUR

Diskrete Strukturen I

24. 9. 2002

Prof. Dr. Reinhard Hochmuth / Dr. Andreas Klein

Name:	Vorname:	Matr.-Nr.:
-------	----------	------------

Bitte verwenden Sie für jede Aufgabe ein eigenes Blatt!

Für jede der Aufgaben 1–5 gibt es 8 Punkte. Vier der Aufgaben sind zu bearbeiten. Bearbeiten Sie alle Aufgaben werden die besten vier bewertet.

Zum Bestehen der Klausur müssen mindestens 13 Punkte erreicht werden.

1)	2)	3)	4)	5)
----	----	----	----	----

Punkte:	Note:
---------	-------

1. Beantworten Sie die folgenden Fragen (Rechenweg und Zahlergebnis):

- a) Wie viele 8-elementige Teilmengen hat eine 14-elementige Menge?
- b) Wie viele Autonummern gibt es, die aus 3 Buchstaben gefolgt von 3 Ziffern bestehen?
- c) Wie viele Permutationen von $\{1, \dots, 10\}$ haben genau 8 Fixpunkte?
- d) Auf wie viele Arten kann man mit drei (nicht unterscheidbaren) Würfeln die Augenzahl 15 werfen?

2. Bearbeiten Sie zwei der folgenden drei Aufgaben:

- a) Zeigen Sie für $n \in \mathbb{N}$: $\sum_{i=1}^n i \cdot i! = (n+1)! - 1$.
- b) Zeigen Sie für $n \in \mathbb{N}$: $S(n, n-1) = \binom{n}{2}$.
- c) Zeigen Sie: Für drei natürliche Zahlen a, b, c ist $(a^2 - b^2)(a^2 - c^2)(b^2 - c^2)$ durch 12 teilbar.

3. Lösen Sie die folgende Rekursionsgleichung:

$$a_{n+2} + a_{n+1} - 2a_n = 0, \quad a_0 = 0, \quad a_1 = 1.$$

4. a) Stellen Sie den Multigraphen G für die folgende Adjazenzmatrix dar:

$$\begin{pmatrix} 0 & 1 & 1 & 1 & 0 \\ 1 & 0 & 1 & 0 & 2 \\ 1 & 1 & 0 & 1 & 1 \\ 1 & 0 & 1 & 0 & 1 \\ 0 & 2 & 1 & 1 & 0 \end{pmatrix}$$

- b) Ist G eulersch? Begründen Sie Ihre Antwort!
- c) Wie kann G so abgeändert werden, daß geschlossene Eulersche Linien existieren?
- d) Bestimmen Sie die Anzahl der Kantenfolgen der Länge 3 zwischen jeweils zwei Knoten von G .

5. Bearbeiten Sie drei der folgenden vier Aufgaben:

- a) Welche Gittergraphen besitzen Eulersche Linien? Begründen Sie!
- b) Welche vollständigen Graphen sind eulersch? Begründen Sie!
- c) Zeigen Sie: Jeder Baum ist bipartit.
- d) Welche der folgenden Aussagen ist richtig? Begründen Sie!
 - $n = \mathcal{O}(n^2)$
 - $n^2 = \mathcal{O}(n)$

Lösungen zur Klausur vom 24.9.02

1. Beantworten Sie die folgenden Fragen (Rechenweg und Zahlergebnis):

a) Wie viele 8-elementige Teilmengen hat eine 14-elementige Menge?

$$\binom{14}{8} = \frac{14 \cdot 13 \cdot \dots \cdot 8 \cdot 7}{1 \cdot 2 \cdot \dots \cdot 7 \cdot 8} = 3003.$$

b) Wie viele Autonummern gibt es, die aus 3 Buchstaben gefolgt von 3 Ziffern bestehen?

Es gibt 26 Buchstaben und 10 Ziffern, insgesamt also $26^3 \cdot 10^3 = 17,576 \cdot 10^6$ Möglichkeiten.

c) Wie viele Permutationen von $\{1, \dots, 10\}$ haben genau 8 Fixpunkte?

1. Möglichkeit: Jeweils 2 Elemente werden vertauscht. Dies ergibt $\binom{10}{2} = 45$

Möglichkeiten.

2. Möglichkeit: Genau 8 Fixpunkte ergeben genau 9 Zyklen. Dies ergibt mittels Stirlingzahlen erster Art $s(10, 9) = 45$.

d) Auf wie viele Arten kann man mit drei (nicht unterscheidbaren) Würfeln die Augenzahl 15 werfen?

Es gibt genau drei Möglichkeiten. Diese lauten $(3, 6, 6)$, $(4, 5, 6)$ und $(5, 5, 5)$.

2. Bearbeiten Sie zwei der folgenden drei Aufgaben:

a) Zeigen Sie für $n \in \mathbb{N}$: $\sum_{i=1}^n i \cdot i! = (n+1)! - 1$.

Induktionsanfang: Für $n = 1$ gilt $\sum_{i=1}^1 i \cdot i! = \sum_{i=1}^1 i \cdot i! = 1$ und

$$(n+1)! - 1 = (1+1)! - 1 = 1.$$

Die Behauptung ist also für $n = 1$ wahr.

Induktionsschritt: Für $n = k \in \mathbb{N}$ gelte $\sum_{i=1}^k i \cdot i! = (k+1)! - 1$. Daraus folgt für $n = k+1$:

$$\begin{aligned} \sum_{i=1}^{k+1} i \cdot i! &= \sum_{i=1}^k i \cdot i! + (k+1)(k+1)! = (k+1)! - 1 + (k+1)(k+1)! \\ &= (k+2)(k+1)! - 1 = (k+2)! - 1. \end{aligned}$$

Also ist die Behauptung für alle $n \in \mathbb{N}$ wahr.

b) Zeigen Sie für $n \in \mathbb{N}$: $S(n, n-1) = \binom{n}{2}$.

1. Möglichkeit: Induktionsanfang: Für $n = 1$ gilt $S(n, n-1) = S(1, 0) = 0$ und $\binom{n}{2} = \binom{1}{2} = 0$. Die Behauptung ist also für $n = 1$ wahr.

Induktionsschritt: Für $n = k \in \mathbb{N}$ gelte $S(k, k-1) = \binom{k}{2}$. Daraus folgt für $n = k + 1$:

$$\begin{aligned} S(k+1, k) &= S(k, k-1) + kS(k, k) = \binom{k}{2} + k \cdot 1 \\ &= \binom{k}{2} + \binom{k}{1} = \binom{k+1}{2}. \end{aligned}$$

Also ist die Behauptung für alle $n \in \mathbb{N}$ wahr.

2. Möglichkeit: $S(n, n-1)$ gibt die Anzahl der Möglichkeiten an, eine n -elementige Menge in genau $n-1$ disjunkte und nichtleere Teilmengen zu zerlegen. Jede solche Zerlegung besteht aus einer 2-elementigen Menge und $n-2$ 1-elementigen

Mengen. Dafür gibt es gerade $\binom{n}{2}$ Möglichkeiten.

c) Zeigen Sie: Für drei natürliche Zahlen a, b, c ist $(a^2 - b^2)(a^2 - c^2)(b^2 - c^2)$ durch 12 teilbar.

Zwei der drei Zahlen a, b, c besitzen bei Division durch 2 den gleichen Rest. O.B.d.A. seien dies a und b . Dann ist sowohl $a - b$ wie auch $a + b$ durch 2, also $a^2 - b^2 = (a - b)(a + b)$ durch 4 teilbar.

Besitzen zwei der drei Zahlen a, b, c bei Division durch 3 den gleichen Rest, so ist $(a - b)(a - c)(b - c)$ durch 3 teilbar.

Schließlich nehme man an, daß die drei Zahlen a, b, c bei Division durch 3 jeweils einen voneinander verschiedenen Rest besitzen. O.B.d.A. besitze a bei Division durch 3 den Rest 1, b den Rest 2 und c den Rest 0. Dann ist $a + b$ offenbar durch 3 teilbar.

Insgesamt ist $(a^2 - b^2)(a^2 - c^2)(b^2 - c^2)$ also durch 12 teilbar.

3. Lösen Sie die folgende Rekursionsgleichung:

$$a_{n+2} + a_{n+1} - 2a_n = 0, \quad a_0 = 0, \quad a_1 = 1.$$

Der Ansatz $A(x) = \sum_{n=0}^{\infty} a_n x^n$ führt auf

$$A(x) = \sum_{n=0}^{\infty} a_n x^n = x + \sum_{n=2}^{\infty} (-a_{n-1} + 2a_{n-2}) x^n = x - A(x)x + 2x^2 A(x),$$

also

$$A(x) = \frac{x}{1+x-2x^2}.$$

Partialbruchzerlegung, d.h.

$$\frac{x}{1+x-2x^2} = \frac{A}{1-\alpha x} + \frac{B}{1-\beta x},$$

liefert $\alpha = -2$, $\beta = 1$, $A = -1/3$ und $B = 1/3$. Damit erhalten wir

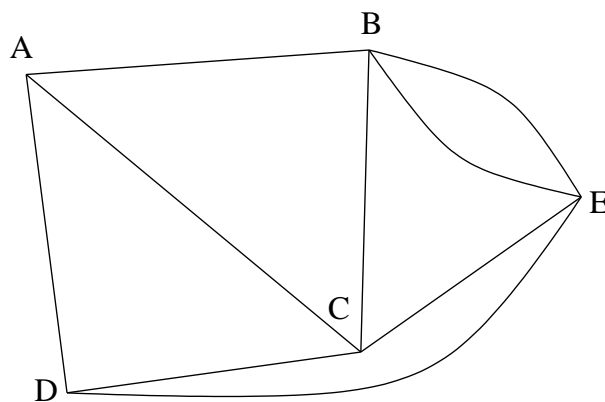
$$\begin{aligned} A(x) &= \frac{x}{1+x-2x^2} \\ &= \frac{1}{3} \left(\frac{1}{1-x} - \frac{1}{1+2x} \right) \\ &= \frac{1}{3} \left(\sum_{n=0}^{\infty} x^n - \sum_{n=0}^{\infty} (-2x)^n \right) \\ &= \frac{1}{3} \sum_{n=0}^{\infty} (1 - (-2)^n) x^n. \end{aligned}$$

Somit gilt

$$a_n = \frac{1}{3} - \frac{(-2)^n}{3}.$$

4. **a)** Stellen Sie den Multigraphen G für die folgende Adjazenzmatrix dar:

$$\begin{pmatrix} 0 & 1 & 1 & 1 & 0 \\ 1 & 0 & 1 & 0 & 2 \\ 1 & 1 & 0 & 1 & 1 \\ 1 & 0 & 1 & 0 & 1 \\ 0 & 2 & 1 & 1 & 0 \end{pmatrix}$$

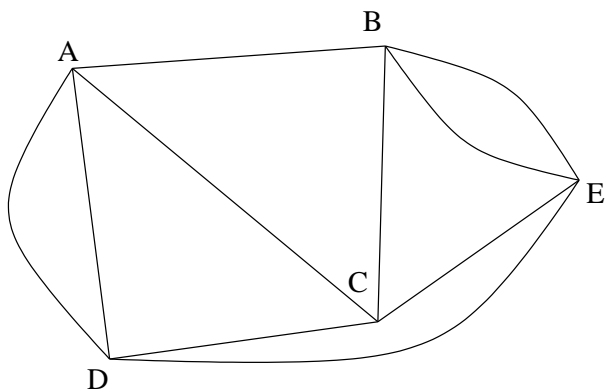


b) Ist G eulersch? Begründen Sie Ihre Antwort!

G ist nicht eulersch, da ungerade Knoten (A und D) existieren.

c) Wie kann G so abgeändert werden, daß geschlossene Eulersche Linien existieren?

Zum Beispiel durch Ergänzen einer Kante zwischen A und D .




d) Bestimmen Sie die Anzahl der Kantenfolgen der Länge 3 zwischen jeweils zwei Knoten von G .

$$\begin{pmatrix} 0 & 1 & 1 & 1 & 0 \\ 1 & 0 & 1 & 0 & 2 \\ 1 & 1 & 0 & 1 & 1 \\ 1 & 0 & 1 & 0 & 1 \\ 0 & 2 & 1 & 1 & 0 \end{pmatrix}^3 = \begin{pmatrix} 0 & 1 & 1 & 1 & 0 \\ 1 & 0 & 1 & 0 & 2 \\ 1 & 1 & 0 & 1 & 1 \\ 1 & 0 & 1 & 0 & 1 \\ 0 & 2 & 1 & 1 & 0 \end{pmatrix} \cdot \begin{pmatrix} 3 & 1 & 2 & 1 & 4 \\ 1 & 6 & 3 & 4 & 1 \\ 2 & 3 & 4 & 2 & 3 \\ 1 & 4 & 2 & 3 & 1 \\ 4 & 1 & 3 & 1 & 6 \end{pmatrix} = \begin{pmatrix} 4 & 13 & 9 & 9 & 5 \\ 13 & 6 & 12 & 5 & 19 \\ 9 & 12 & 10 & 9 & 12 \\ 9 & 5 & 9 & 4 & 13 \\ 5 & 19 & 12 & 13 & 6 \end{pmatrix}.$$

5. Bearbeiten Sie drei der folgenden vier Aufgaben:

a) Welche Gittergraphen besitzen Eulersche Linien? Begründen Sie!



Alle anderen besitzen mehr als 2 ungerade Knoten.

b) Welche vollständigen Graphen sind eulersch? Begründen Sie!

Graphen mit einer ungeraden Anzahl von Knoten größer gleich 3, denn dann besitzt jeder Knoten geraden Grad.

c) Zeigen Sie: Jeder Baum ist bipartit.

Wähle einen Knoten als Wurzel und führe den Abstand aller Knoten zur Wurzel ein: Der Abstand ist $k \in \mathbb{N}_0$, wenn der eindeutig bestimmte Kantenzug zur Wurzel (Es gibt keine Kreise!) k Kanten enthält. Zerlege nun die Menge der Knoten in die mit geradem bzw. ungeradem Abstand. Dies definiert eine disjunkte Zerlegung der Knotenmenge so, daß es Kanten nur zwischen jeweils 2 Knoten aus den beiden Teilmengen gibt.

d) Welche der folgenden Aussagen ist richtig? Begründen Sie!

- $n = \mathcal{O}(n^2)$
- $n^2 = \mathcal{O}(n)$

$n = \mathcal{O}(n^2)$: Richtig, da für jedes $n \in \mathbb{N}$ gilt: $n \leq n^2$.

$n^2 = \mathcal{O}(n)$: Falsch, da für jedes $C > 0$ und jedes $n_0 \in \mathbb{N}$ ein $n \geq n_0$ existiert mit $n > C$ und damit $n^2 > Cn$. Es gibt demnach kein $C > 0$, so daß bezüglich einem geeigneten $n_0 \in \mathbb{N}$ für alle $n \geq n_0$ gilt: $n^2 \leq Cn$.